

IASbaba Integrated Revision Programme 2020 – Day 11 ECONOMY

Q.1) निम्नलिखित कथनों पर विचार करें

1. सामाजिक बहिष्कार (Social exclusion) एक माप है, जो आने वाले वर्षों में कुछ समुदायों या कुछ व्यक्तियों के गरीब होने, या बने रहने की अधिक संभावना का वर्णन करता है।
2. प्रति व्यक्ति आय अमीर और गरीब के बीच असमानताओं को नहीं दर्शाती है।

ऊपर दिए गए कथनों में से कौन सा सही नहीं है / हैं?

- a) केवल 1
- b) केवल 2
- c) दोनों 1 और 2
- d) न तो 1 और न ही 2

Q.1) Solution (a)

गरीबी के लिए सुभेद्यता (Vulnerability) एक माप है, जो आने वाले वर्षों में कुछ समुदायों या कुछ व्यक्तियों के गरीब होने, या बने रहने की अधिक संभावना का वर्णन करता है।

सामाजिक बहिष्कार (social exclusion) की अवधारणा के अनुसार, गरीबी को अन्य गरीब लोगों के साथ, खराब परिवेश में रहने के संदर्भ में देखा जाता है, जिन्हें बेहतर परिवेश में बेहतर लोगों की सामाजिक समानता का आनंद लेने से बाहर रखा गया है।

इसलिए कथन 1 गलत है।

प्रति व्यक्ति आय अपनी कुल जनसंख्या से विभाजित देश की कुल आय होती है। प्रति व्यक्ति आय अमीर और गरीब के बीच असमानताओं को नहीं दर्शाती है।

इसलिए कथन 2 सही है।

Q.2) निम्नलिखित कथनों पर विचार करें

1. जीवन स्तर, बहुआयामी गरीबी सूचकांक द्वारा उपयोग किए जाने वाले तीन आयामों में से एक है।
2. वैश्विक बहुआयामी गरीबी सूचकांक विश्व बैंक द्वारा 2010 में विकसित किया गया था।

ऊपर दिए गए कथनों में से कौन सा सही है / हैं?

- a) केवल 1
- b) केवल 2
- c) दोनों 1 और 2
- d) न तो 1 और न ही 2

Q.2) Solution (a)

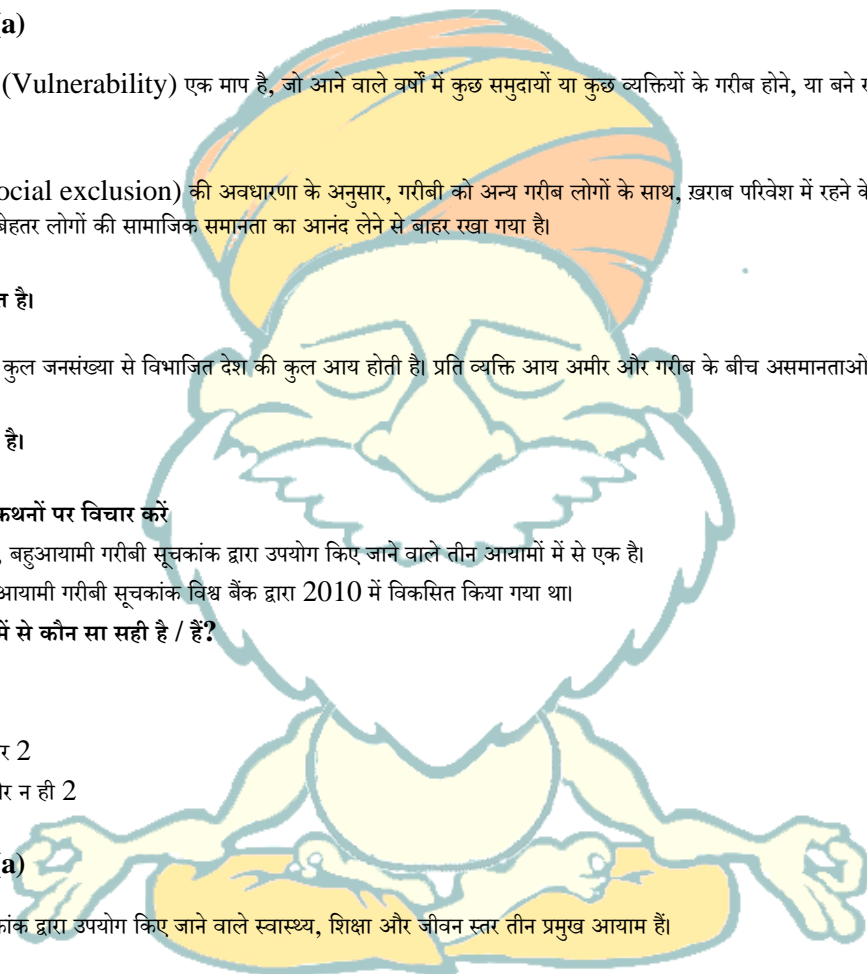
बहुआयामी गरीबी सूचकांक द्वारा उपयोग किए जाने वाले स्वास्थ्य, शिक्षा और जीवन स्तर तीन प्रमुख आयाम हैं।

इसलिए कथन 1 सही है।

वैश्विक बहुआयामी गरीबी सूचकांक को 2010 में ऑक्सफोर्ड विश्वविद्यालय में ऑक्सफोर्ड गरीबी और मानव विकास पहल (OPHI) तथा प्रमुख मानव विकास रिपोर्ट के लिए संयुक्त राष्ट्र विकास कार्यक्रम (UNDP) के मानव विकास रिपोर्ट कार्यालय द्वारा विकसित किया गया था।

इसलिए कथन 2 गलत है।

Q.3) निम्नलिखित कथनों पर विचार करें



IASbaba Integrated Revision Programme 2020 – Day 11 ECONOMY

1. ग्रेट गैट्सबी वक्र (Great Gatsby Curve) एक पीढ़ी में धन की एकाग्रता और अंतर-पीढ़ी आर्थिक गतिशीलता (intergenerational economic mobility) पर इसके प्रभाव के बीच सहसंबंध प्रदान करता है।
2. प्रति व्यक्ति सकल राष्ट्रीय आय मानव विकास सूचकांक की गणना में प्रयुक्त संकेतकों में से एक है।

ऊपर दिए गए कथनों में से कौन सा सही है / हैं?

- a) केवल 1
- b) केवल 2
- c) दोनों 1 और 2
- d) न तो 1 और न ही 2

Q.3) Solution (c)

ग्रेट गैट्सबी वक्र एक पीढ़ी में धन की एकाग्रता और अंतर-पीढ़ी आर्थिक गतिशीलता पर इसके प्रभाव के बीच सहसंबंध प्रदान करता है।

इसलिए कथन 1 सही है।

जन्म के समय जीवन प्रत्याशा, स्कूल जाने की आशा के वर्ष, स्कूली पढ़ाई के वर्ष, सकल राष्ट्रीय आय प्रति व्यक्ति मानव विकास सूचकांक की गणना में संकेतक के रूप में उपयोग किया जाता है।

इसलिए कथन 2 सही है।

Q.4) निम्नलिखित कथनों पर विचार करें:

1. देश के GVA (सकल मूल्य वर्धित) में कृषि और संबद्ध क्षेत्रों की हिस्सेदारी 2014-15 के स्तर से घट गई है।
2. 2018 में, चीन के बाद भारत तैयार स्टील (finished steel) का दूसरा सबसे बड़ा उपभोक्ता है।

ऊपर दिए गए कथनों में से कौन सा सही नहीं है / हैं?

- a) केवल 1
- b) केवल 2
- c) दोनों 1 और 2
- d) न तो 1 और न ही 2

Q.4) Solution (b)

देश के GVA (सकल मूल्य वर्धित) में कृषि और संबद्ध क्षेत्रों की हिस्सेदारी 2014-15 के स्तर से घट गई है। (2014-15 में 18.2% से 2019-20 में 16.5%)

इसलिए कथन 1 सही है।

2018 में, चीन और संयुक्त राज्य अमेरिका के बाद भारत तैयार स्टील का तीसरा सबसे बड़ा उपभोक्ता है।

इसलिए कथन 2 गलत है।

Q.5) निम्नलिखित कथनों पर विचार करें:

1. सेवा क्षेत्र के अंतर्गत कुल निर्यात का 15% हिस्सा है।
2. सेवा क्षेत्र के अंतर्गत देश के GVA का 75% हिस्सा है।

ऊपर दिए गए कथनों में से कौन सा सही है / हैं?

- a) केवल 1

IASbaba Integrated Revision Programme 2020 – Day 11 ECONOMY

- b) केवल 2
- c) दोनों 1 और 2
- d) न तो 1 और न ही 2

Q.5) Solution (d)

सेवा क्षेत्र के अंतर्गत कुल निर्यात का 38 % हिस्सा है।

इसलिए कथन 1 गलत है।

सेवा क्षेत्र में देश के GVA का 55% हिस्सा है।

इसलिए कथन 2 गलत है।

Q.6) क्रय शक्ति समता (PPP) के बारे में, निम्नलिखित कथनों पर विचार करें।

1. यह विभिन्न मुद्राओं के सापेक्ष मूल्य को निर्धारित करने के लिए उपयोग की जाने वाली तकनीक है।
2. यह अवधारणा इस धारणा पर काम करती है कि बाजार एक मूल्य के कानून (law of one price) पर काम करते हैं।

ऊपर दिए गए कथनों में से कौन सा सही है / हैं?

- a) केवल 1
- b) केवल 2
- c) दोनों 1 और 2
- d) न तो 1 और न ही 2

Q.6) Solution (c)

क्रय शक्ति समता (PPP) एक तकनीक है जिसका उपयोग विभिन्न मुद्राओं के सापेक्ष मूल्य को निर्धारित करने के लिए किया जाता है।

इसलिए कथन 1 सही है।

यह अवधारणा इस धारणा पर काम करती है कि बाजार एक मूल्य के कानून पर काम करते हैं।

एक मूल्य का कानून, यानी, समान वस्तुओं और सेवाओं (मात्रा में और साथ ही गुणवत्ता) का एक ही मुद्रा में अलग-अलग बाजारों में समान मूल्य होना चाहिए।

इसलिए कथन 2 सही है।

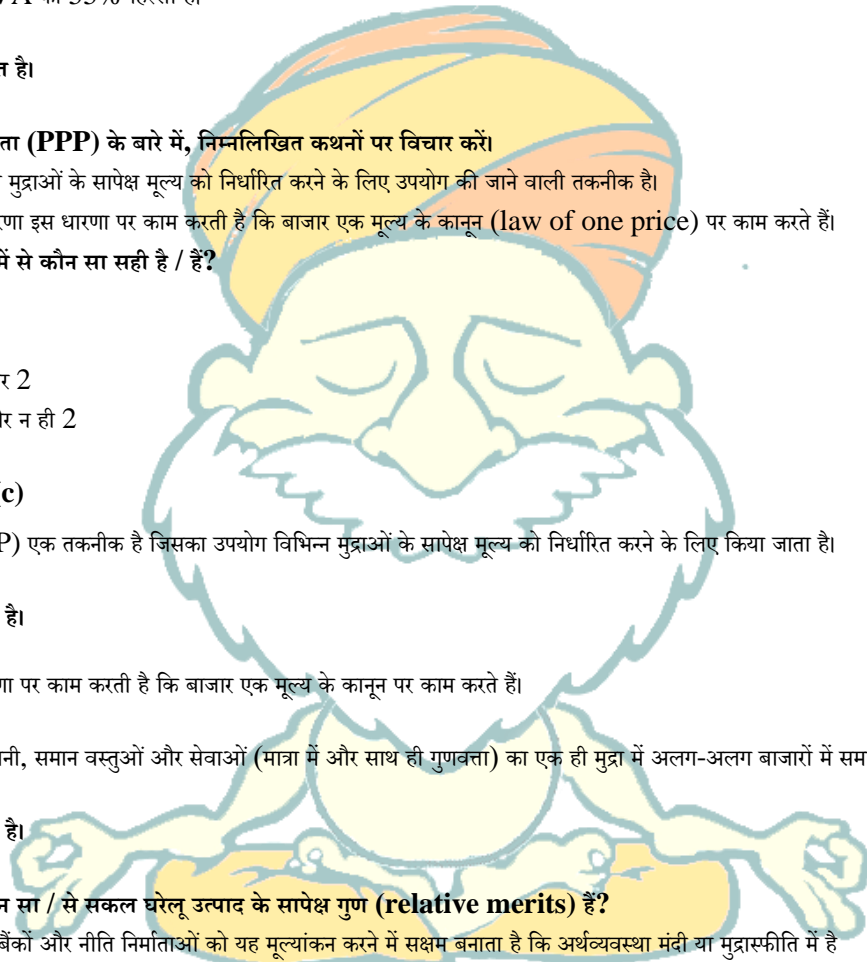
Q.7) निम्न में से कौन सा / से सकल घरेलू उत्पाद के सापेक्ष गुण (relative merits) हैं?

1. यह केंद्रीय बैंकों और नीति निर्माताओं को यह मूल्यांकन करने में सक्षम बनाता है कि अर्थव्यवस्था मंदी या मुद्रास्फीति में है
2. प्रच्छन्न बेरोजगारी (Disguised Unemployment) वह स्थिति है, जहां लोग स्पष्ट रूप से काम कर रहे हैं, लेकिन उन्हें काम से हटा देने पर कार्य दक्षता प्रभावित नहीं होती है।

ऊपर दिए गए कथनों में से कौन सा सही नहीं है / हैं?

- a) केवल 1
- b) केवल 2
- c) दोनों 1 और 2
- d) न तो 1 और न ही 2

Q.7) Solution (d)



IASbaba Integrated Revision Programme 2020 – Day 11 ECONOMY

समय के साथ जीडीपी वृद्धि केंद्रीय बैंकों और नीति निर्माताओं को यह मूल्यांकन करने में सक्षम बनाती है कि अर्थव्यवस्था मंदी या मुद्रास्फीति में है।

इसलिए कथन 1 सही है।

प्रच्छन्न बेरोजगारी:

प्रच्छन्न बेरोजगारी (Disguised Unemployment) वह स्थिति है, जहां लोग स्पष्ट रूप से काम कर रहे हैं, लेकिन उन्हें काम से हटा देने पर कार्य दक्षता प्रभावित नहीं होती है।

यह एक प्रकार की अल्प-बेरोजगारी है जो किसी ऐसे व्यक्ति के विपरीत छिपी हुई है जिसके पास नौकरी नहीं है और बेरोजगार के रूप में स्पष्ट रूप से दिखाई देता है।

इसलिए कथन 2 सही है।

Q.8) समष्टि अर्थशास्त्र (Macroeconomics) 4 क्षेत्रों के संयोजन के रूप में एक अर्थव्यवस्था को देखता है। नीचे दिए गए कूट से सही क्षेत्रकों का चयन करें:

- भूमि, श्रम, पूंजी, उद्यमी
- घरों (Households), फर्म (firms), सरकार, बाह्य क्षेत्र (external sector)
- उपभोक्ता (Consumer), उद्यमी, फर्म (firms), सरकार
- उपभोक्ता, फर्म (firms), सरकार, बाह्य क्षेत्र (external sector)

Q.8) Solution (b)

- समष्टि अर्थशास्त्र (मैक्रोइकॉनॉमिक्स) एक अर्थव्यवस्था के कुल आर्थिक चर के साथ संबंधित है। यह विभिन्न अंतर संबंध को भी ध्यान में रखता है जो किसी अर्थव्यवस्था के विभिन्न क्षेत्रों के बीच मौजूद हो सकते हैं।
- समष्टि अर्थशास्त्र एक अर्थव्यवस्था को चार क्षेत्रों के संयोजन के रूप में देखता है, अर्थात् घर, फर्म, सरकार और बाह्य क्षेत्र।

Q.9) सकल घरेलू उत्पाद (GDP) और सकल राष्ट्रीय आय (GNI) के संदर्भ में, निम्नलिखित कथनों पर विचार करें

- पूर्णतः बंद अर्थव्यवस्था में जीडीपी = जीएनआई
- यदि उत्पादन प्रेषण (remittances) से कम है, तो GDP, GNI से अधिक होगा।

उपरोक्त कथनों में से कौन सा सही है / हैं?

- केवल 1
- केवल 2
- दोनों 1 और 2
- न तो 1 और न ही 2

Q.9) Solution (a)

एक पूर्णतः बंद अर्थव्यवस्था का बाह्य विश्व के साथ कोई संपर्क नहीं होता है, यह पूरी तरह से आत्मनिर्भर होती है, तथा इसका अन्य देशों के साथ कोई आयात या निर्यात नहीं होता है। तो, घरेलू क्षेत्र (जीडीपी) में उत्पादित सभी वस्तुओं और सेवाओं का उत्पादन उस देश के नागरिकों (GNI) द्वारा किया जाता है।

इसलिए कथन 1 सही है।

जीएनआई, जीडीपी से अधिक हो सकती है या नहीं भी हो सकती है, यदि देश के सभी निवासी अपने देश के बाहर काम के लिए पलायन कर चुके हैं, तथा उत्पादन प्रेषण से कम है, तो जीएनआई जीडीपी से अधिक हो जाएगा।

इसलिए कथन 2 गलत है।

IASbaba Integrated Revision Programme 2020 – Day 11 ECONOMY

Q.10) 'हरित' जीडीपी ('Green' GDP) के संबंध में, निम्नलिखित में से कौन सा कथन सही नहीं है / हैं?

1. इसमें देश में उत्पादित कृषि वस्तुओं की कुल मात्रा शामिल है।
2. इसमें जैव विविधता की मुद्रीकृत हानि और जलवायु परिवर्तन के कारण होने वाली लागत भी शामिल है।

नीचे दिए गए कूट से सही उत्तर चुनें:

- a) केवल 1
- b) केवल 2
- c) दोनों 1 और 2
- d) न तो 1 और न ही 2

Q.10) Solution (a)

हरित सकल घरेलू उत्पाद (ग्रीन जीडीपी या जीजीडीपी) देश की पारंपरिक जीडीपी में शामिल उस विकास के पर्यावरणीय परिणामों के साथ आर्थिक विकास का एक सूचकांक है।

इसलिए कथन 1 गलत है।

ग्रीन जीडीपी में जैव विविधता की हानि, और जलवायु परिवर्तन के कारण होने वाली लागतों को भी शामिल किया जाता है।

इसलिए कथन 2 सही है।

ग्रीन जीडीपी की गणना के लिए आवश्यक है कि शुद्ध प्राकृतिक पूंजी की खपत, जिसमें संसाधन की कमी, पर्यावरणीय निम्नीकरण तथा सुरक्षात्मक और पुनर्स्थापना संबंधी पर्यावरणीय पहल शामिल हैं, को पारंपरिक जीडीपी से घटाया जाए।

Q.1) निम्नलिखित कथनों पर विचार करें

1. छो लुंग सुकफा ने अहोम साम्राज्य की स्थापना की।
2. मुगलों ने कभी भी अहोमों की भूमि को जीतने का प्रयास नहीं किया।

सही कथनों का चयन करें

- a) केवल 1
- b) केवल 2
- c) दोनों 1 और 2
- d) न तो 1 और न ही 2

Q.1) Solution (a)

सुकफा एक 13 वीं शताब्दी का शासक था जिसने छह सदियों तक असम पर शासन करने वाले अहोम साम्राज्य की स्थापना की। समकालीन विद्वान बर्मा में उसके वंशजों का पता लगाते हैं।

अहोमों को दक्षिण-पश्चिम से कई आक्रमणों का सामना करना पड़ा। 1662 में, मीर जुमला के अंतर्गत मुगलों ने अहोम साम्राज्य पर हमला किया। उनकी बहादुर रक्षा के बावजूद, अहोम पराजित हुए थे। लेकिन इस क्षेत्र पर प्रत्यक्ष मुगल नियंत्रण लंबे समय तक नहीं चल सका।

Source: <https://indianexpress.com/article/explained/the-legacy-of-sukapha-founder-of-ahom-kingdom-6468320/>

Q.2) 'सोहराई और खोवर चित्रकला' (Sohrai and Khovar paintings) निम्नलिखित में से किस राज्य से संबंधित है?

- a) झारखंड
- b) महाराष्ट्र

IASbaba Integrated Revision Programme 2020 – Day 11 ECONOMY

- c) हरियाणा
- d) असम

Q.2) Solution (a)

खोबर शादी के कमरों की सजावट को दर्शाता है और सोहराई मिट्टी के घरों पर फसली पेंटिंग है, जिसमें बारिश के बाद इसकी मरम्मत करना तथा प्रकृतिक शक्तियों को धन्यवाद दिया जाता है।



Q.3) निम्नलिखित में से कौन सा युग्म सही रूप से सुमेलित है?

समाचारों में स्थान - राज्य


1. चोपटा (Chopta) - उत्तराखंड
2. फूलों की घाटी (Valley of Flowers) - हिमाचल प्रदेश



3. मदिकेरी (Madikeri) - कर्नाटक

सही कूट चुनें:

- a) 1 और 2
- b) 1 और 3
- c) 2 और 3
- d) केवल 3

Q.3) Solution (b)





Uttarakhand
Valley of Flowers

This world heritage site is set in the backdrop of the majestic Himalayan Ranges. A popular trek to this paradisiacal place takes travellers through gorgeous landscapes, where they get the chance to sight rare and exotic Himalayan flora.

Karnataka
Hampi



The UNESCO recognized World Heritage Site is known for its archaeological significance. This famous huge Stone Chariot that stands magnificent in front of the Vittala Temple is one of the must-visit places in and around Hampi.



Barren Island

India's only confirmed active volcano is located in Barren Island. It is about three kilometres in diameter and has a big crater of the volcano. This place is uninhabited by humans, earning it its name.

Kavaratti Island

The Kavaratti is the capital of the Union Territory of Lakshadweep. It has been selected as one of the hundred Indian cities to be developed as a smart city under PM Narendra Modi's flagship Smart Cities Mission.

Karnataka

Madikeri

Rich coffee plantations and a breath of chill, fresh air along the hilly terrains is Madikeri, the capital of Kodagu(Coorg). Also known to be the 'Hidden Jewel of South India', Coorg is the 'Coffee Bowl' of the country as it accounts for nearly 40% of the country's total coffee production.

Uttarakhand

Chopta

This unspoiled natural destination lying in the lap of Himalayas, offers vistas of the imposing Himalayan range including Trishul, Nanda Devi and Chaukhamba. Chopta is also a base for trekking to Tungnath, third temple of Panch Kedar, which lies 3.5 kms uphill.

Q.4) 'फेवीपिरविर' (Favipiravir) के संबंध में, निम्नलिखित कथनों पर विचार करें।

1. यह जापान में विकसित किया गया था तथा बाद में, इन्फ्लूएंजा रोगियों के बीच उपयोग के लिए अनुमोदित किया गया था।
2. COVID-19 के उपचार के लिए ड्रग कंट्रोलर जनरल ऑफ इंडिया द्वारा इसे अनुमोदित किया गया है।

सही कथनों का चयन करें

- a) केवल 1
- b) केवल 2
- c) दोनों 1 और 2
- d) न तो 1 और न ही 2

Q.4) Solution (c)

फेवीपिरविर (Favipiravir) एक एंटी-वायरल दवा है तथा इसे इन्फ्लूएंजा के इलाज के लिए जापान में अनुमोदित किया गया है।

फेज -3 डेटा के आधार पर, ग्लेनमार्क ने एंटीवायरल दवा फेविपिरविर के निर्माण और विपणन के लिए मंजूरी प्राप्त की, जिसे फेबीफ्लू (FabiFlu), एक मौखिक दवा के रूप में ब्रांडेड किया गया है। अनुमोदन केवल हल्के से मध्यम कोविड-19 रोगियों के उपचार के लिए आपातकालीन प्रतिबंधित उपयोग के लिए है। अनुमोदन का प्रतिबंधित उपयोग उत्तरदायी दवा के उपयोग को रोकता है, जहां हर मरीज को उपचार शुरू करने से पहले सूचित सहमति पर हस्ताक्षर करना आवश्यक होता है।

Source: <https://www.thehindu.com/sci-tech/health/glenmark-unveils-oral-antiviral-for-covid-19/article31878134.ece>

Q.5) हाल ही में, उत्तर प्रदेश के सहारनपुर में बादशाही बाग क्षेत्र के आसपास के क्षेत्र में उजागर हुए शिवालिक अवसादों से स्टेगोडन (Stegodon) का एक जीवाश्म खोजा गया था। एक स्टेगोडन क्या है?

- a) यह हाथी की एक किस्म है जो आरंभिक काल (early age) में पाया जाता था।
- b) यह चार पैरों वाला शाकाहारी डायनासोर था।
- c) यह अब तक मौजूद सबसे बड़ा जलीय स्तनपायी (aquatic mammal) था।
- d) यह प्रजाति Blattodea का एक कीट है।

Q.5) Solution (a)

उत्तर प्रदेश के सहारनपुर में बादशाही बाग क्षेत्र के आसपास के क्षेत्र में उजागर हुए शिवालिक अवसादों से एक हाथी के जीवाश्म की खोज की गई है।

जीवाश्म पाँच से आठ मिलियन वर्ष पुराना बताया गया है तथा यह शिवालिक श्रेणी के ढोक पठान गठन (dhok pathan formation) से संबंधित है। यह हाथी की एक किस्म है जो आरंभिक काल में पाया जाता था।

स्टेगोडनों की उपस्थिति उस समय के दौरान क्षेत्र में घने जंगलों और बहुत सारी नदी धारा प्रवाहों के अस्तित्व को दर्शाती है। अन्य जीवाश्म जो स्टेगोडनों के साथ मौजूद थे, जिराफ, घोड़ों और दरियाई घोड़ा थे।

जीवाश्म पर जड़ित बलुआ पत्थर प्रकृति में मध्यम दानेदार हैं। इस प्रकार की लिथोलॉजी (शैल संरचना) मध्य शिवालिक की विशेषता है।

जीवाश्म एशियाई और अफ्रीकी क्षेत्र में पाए जाते हैं, जो पूर्व मियोसीन (Miocene) काल तक के हैं। प्लेइस्टोसिन (Pleistocene) के दौरान, वे एशिया और मध्य अफ्रीका के बड़े हिस्सों में रहते थे।

Source: <https://www.hindustantimes.com/india-news/fossils-of-stegodon-elephant-found-in-saharanpur-s-shivalik-range/story-a3YDohUmJqvcM5myrOZrwN.html>